
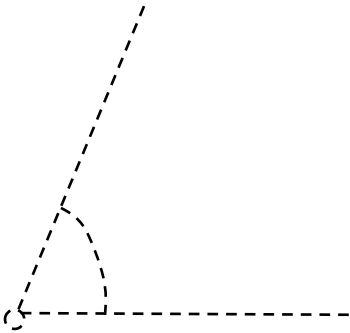
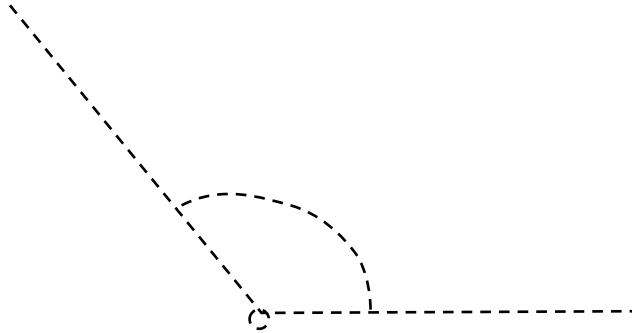


VERIFICO LA MIA CONOSCENZA DEGLI ANGOLI

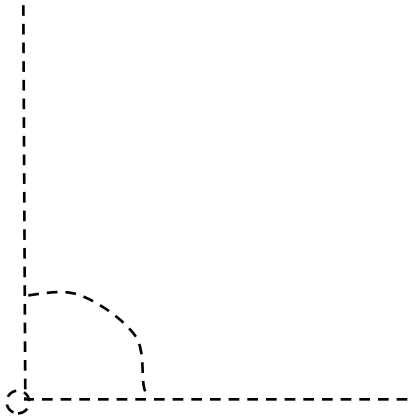
 A. Ripassa di rosso il **vertice**, di verde i **lati** e di azzurro l'**ampiezza** dei seguenti angoli; con il goniometro misura l'ampiezza e scrivi il valore in gradi; per finire, classifica ciascun angolo scrivendo se è **retto**, **acuto**, **ottuso**, **piatto** o **giro**.



Ampiezza di _____
È un angolo _____



Ampiezza di _____
È un angolo _____



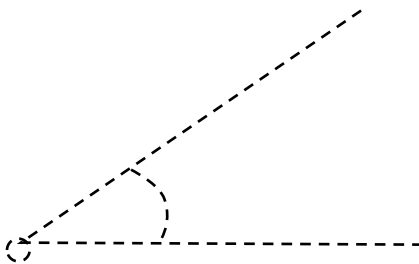
Ampiezza di _____
È un angolo _____



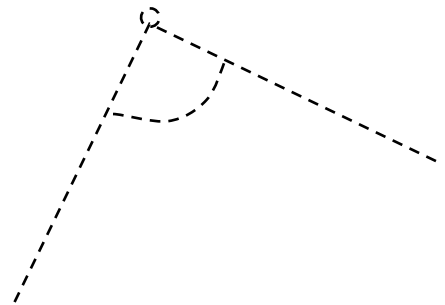
Ampiezza di _____
È un angolo _____



Ampiezza di _____
È un angolo _____



Ampiezza di _____
È un angolo _____



Ampiezza di _____
È un angolo _____