


ALUNNO _____


 A. Copia e risolvi sul quaderno.

Alessandro va a fare spese. Compra 7 pacchetti di figurine degli "Amici cucciolotti" e 8 pacchetti di figurine dei calciatori.

Quanti pacchetti di figurine compra in tutto?

Ogni pacchetto costa € 3.

Quanto spende in tutto Alessandro?

 B. Scrivi i numeri in 4 modi, come l'esempio.

$$6.058 = 6 \text{ uK} + 0 \text{ h} + 5 \text{ da} + 8 \text{ u}$$

$$6.058 = 6.000 + 0 + 50 + 8$$


$$6.058 = (1 \times 6.000) + (1 \times 0) + (1 \times 50) + (1 \times 8)$$

6.058 → *seimilacinquantotto*

7.462

8.105


7.240

 C. Esegui le operazioni in tabella.

- 2 h	
5.362	5.162
4.626	
267	
2.234	
1.146	
6.034	
5.033	
426	
4.034	
3.132	

- 5 da	
274	224
651	
1.682	
4.056	
792	
4.743	
2.838	
7.316	
2.408	
61	

- 9 u	
452	443
5.273	
699	
456	
1.048	
6.805	
864	
9.531	
5.012	
129	

 D. Esegui in colonna.

- 1.038 X 13 = _____
- 1.340 X 15 = _____
- 1.068 X 14 = _____
- 6.126 : 6 = _____
- 9.135 : 7 = _____
- 8.018 : 8 = _____
- 6.531 + 68 + 722 = _____
- 94 + 5.059 + 376 = _____
- 45.032 - 1.128 = _____
- 36.670 - 8.234 = _____