

LA PIANURA

✍️ 1. Guarda e ascolta con attenzione il video e poi completa il testo a buchi. <https://youtu.be/-PvgziwNd40>

La pianura è un territorio prevalentemente _____ che non supera i _____ metri sul livello del mare. Sulle carte geografiche fisiche è colorata in _____.

Spesso la pianura nasce come _____, cioè un territorio dove i corsi d'acqua non sono regolati e si creano _____, pozzanghere, _____, dove non è possibile vivere né coltivare, anche perché ci vivono le _____ che possono causare malattie. Per questo motivo l'uomo ha imparato a _____, cioè a rendere buono il paesaggio di pianura regolando le acque dentro i _____, chiusi negli _____. Questi canali sono usati anche per irrigare i _____.

In pianura troviamo anche molti edifici; la pianura è infatti il paesaggio più modificato dall'uomo, è un paesaggio fortemente _____.

In pianura si possono trovare tre tipi di paesaggi:

- il paesaggio _____ e industriale
- il paesaggio _____ e rurale
- il paesaggio _____ e paludoso

Gli elementi tipici del paesaggio di pianura sono le _____, le _____, le superstrade, cioè le vie di comunicazione.

Ci sono zone _____, proprio perché è più facile trasportare materiali e merci.

Ci sono molti _____ per l'elettricità.


Il clima è _____, con estati calde e afose e inverni _____.

A causa dell'umidità si forma la _____ e a causa della presenza delle industrie si può formare lo _____.




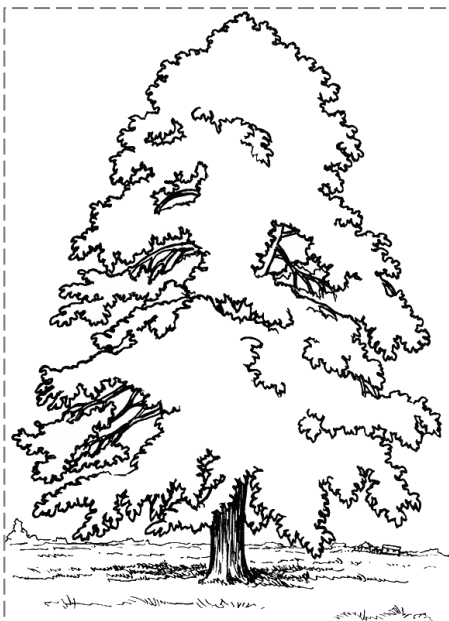
Flora e fauna selvatiche sono ridotte; però nelle _____ si trovano prati, boschi di _____, _____, _____ e anche _____.

Qui si rifugiano _____, _____, _____, _____ e molti uccelli come il _____, il _____, l'_____ e il _____ reale.

✍️ 2. Colora l'immagine e scrivi il nome di quanti più elementi riesci a riconoscere.



✂️ 3. Ritaglia le figure e crea sul quaderno un'infografica con animali e piante della pianura; aggiungine altri!



tiglio
stagno
tife
libellula
ninfee
pesce
rana
airone
germano reale