



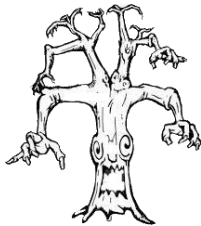






Geografia: coordinate e percorso sul piano cartesiano.

DOROTHY E LO SPAVENTAPASSERI

✍️ 1. Sul tuo quaderno scrivi le coordinate esatte per permettere a Dorothy di raggiungere lo Spaventapasseri senza incontrare ostacoli; scrivilo nel giusto ordine di successione.

✍️ 2. Ora scrivi, sempre sul quaderno, le coordinate delle seguenti cose: girasole, Strega dell'Ovest, papavero, Strega dell'Est, Munchkin, Joker, Albero picchiatore.

5					
4					
3					
2					
1					
	A	B	C	D	E