
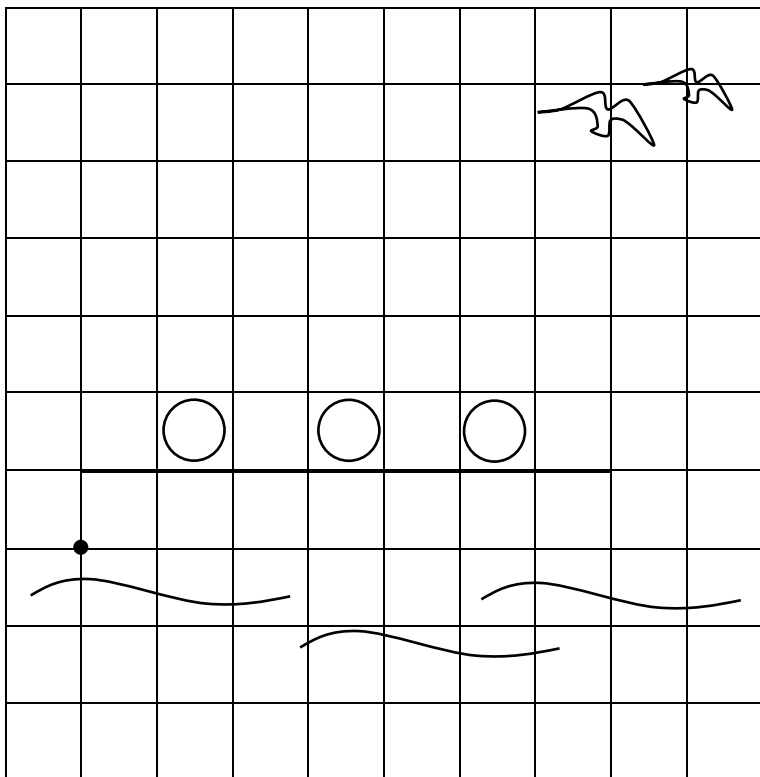



Geografia: verifica sui percorsi con i vettori


 1. Disegna seguendo le indicazioni dei vettori.

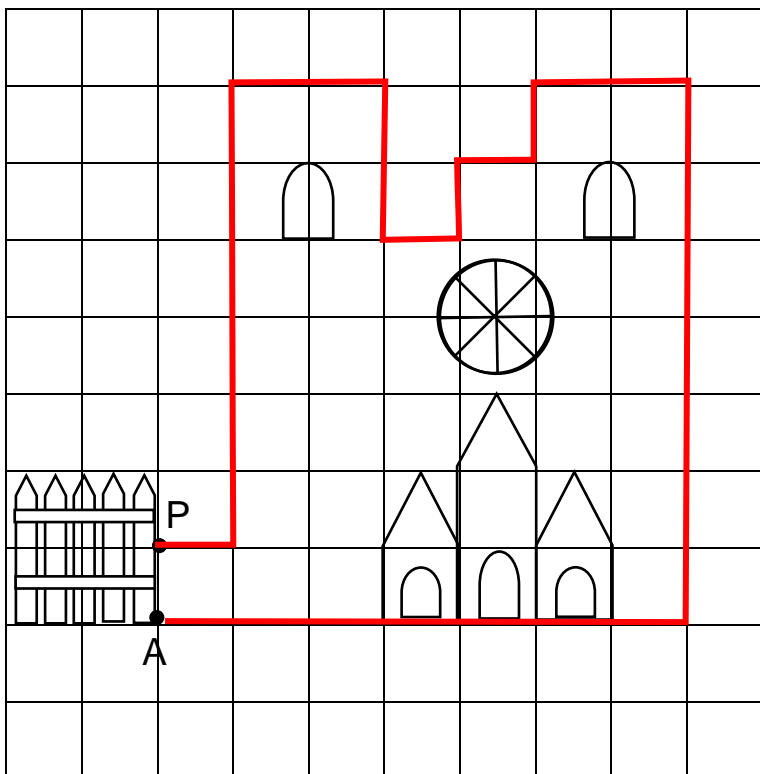


Percorso da tracciare.  
Attenzione: il puntino nero è la partenza.

8→; 1↑; 1←; 1↑; 1←;  
1↑; 1←; 2↑; 1←; 1↓;  
1←; 1↓; 1←; 1↓; 2←;  
2↓.

 2. Ho disegnato \_\_\_\_\_  
\_\_\_\_\_.

 3. Scrivi, usando i numeri e i vettori, il percorso che vedi tracciato in rosso qui sotto.



Attenzione: il punto P è la partenza, il punto A è l'arrivo.

\_\_\_\_\_

\_\_\_\_\_

\_\_\_\_\_

\_\_\_\_\_

\_\_\_\_\_

\_\_\_\_\_